

# Recapitulare finală

## Matematică și explorarea mediului

### Clasa a II-a

1. Scrie:

- a) cu cifre numerele:
- nouăsprezece - .....
  - sapte sute șapte - .....
  - trei sute doisprezece - .....

- b) cu litere numerele:
- 18 - .....
  - 500 - .....
  - 837 - .....



2. Scrie numerele naturale :

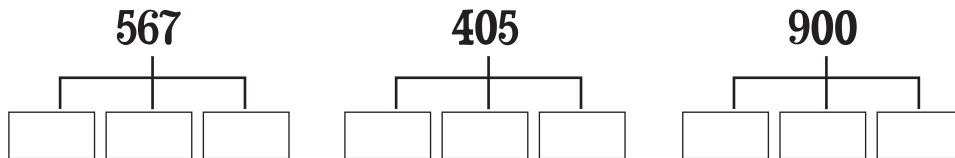
a) de la 699 până la 703

.....

b) pare cuprinse între 350 și 339

.....

3. Precizează câte sute, zeci și unități sunt în fiecare număr:



4. Compară perechile de numere, folosind semnele <, > sau = :

27 ..... 72      303 ..... 303      871 ..... 817

5. Calculează:

19 + 12 = .....	68 - 46 = .....	6 x 4 = .....	64 : 8 = .....
279 + 567 = .....	441 - 362 = .....	4 x 7 = .....	18 : 3 = .....
579 + 37 = .....	63 - 58 = .....	9 x 8 = .....	54 : 9 = .....

6. Efectuează:

$2 \times 6 + 3 =$

$81 : 9 + 3 \times 4 =$

$(195 + 349) - 5 \times 3 =$

$4 \times 5 : 2 + 18 : 6 \times 8 =$

7. Află termenul necunoscut:

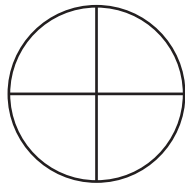
$$a + 315 = 640$$

$$b - 123 = 459$$

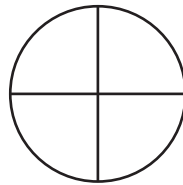
$$c \times 3 = 27$$

$$56 : d = 7$$

8. Colorează pentru a reprezenta jumătatea și sfertul.  
Scrie fracția pentru fiecare situație.



—



—

9. Adevărat sau fals (A sau F) ?

a. Pătratul are patru laturi de lungimi egale. \_\_\_\_\_

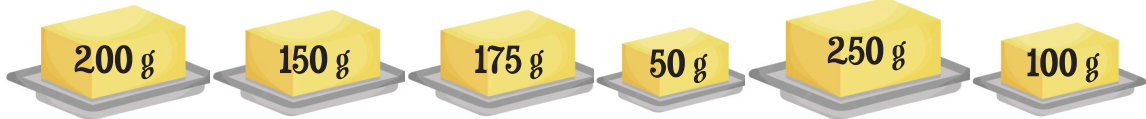
b. Triunghiul are patru laturi. \_\_\_\_\_

c. Dreptunghiul are două lungimi și două lățimi. \_\_\_\_\_

d. Cercul are trei laturi. \_\_\_\_\_

e. Perimetrul este suma lungimilor laturilor unei figuri geometrice. \_\_\_\_\_

10. Ce pachete de unt vei alege pentru a cumpăra de la supermarket 500 grame ? Încercuiește-le pe cele alese!



11. La diferența numerelor 601 și 345 adaugă câtu numărului 42 și 7.

12. Ema are 36 de lei, Veronica un sfert din această sumă, iar Victor triplu față de Veronica. Cei trei frați cumpără un atlas geografic de 70 de lei. Ce rest primesc?

