


FIȘĂ DE LUCRU CLASA I

Adunarea și scăderea numerelor formate din zeci și unități


1. Efectuează:

$64 +$	$38 -$	$55 +$	$97 -$	$32 +$	$59 -$	$88 -$	$52 +$
<u>33</u>	<u>14</u>	<u>31</u>	<u>72</u>	<u>25</u>	<u>26</u>	<u>53</u>	<u>21</u>
.....

2. Află suma, apoi diferența perechilor de numere date:




3. Calculează suma numerelor din fiecare buchețel:






4. Scrie numerele date ca diferență, după model. :






Model: $45 = 79 - 34$ sau $45 = 88 - 43$





5. Completează:

			
Erau	28	32	44
Au venit	11	27	23
Sunt			

			
Erau	34	48	99
Au plecat	12	34	57
Au rămas			

6. În parc au înflorit 38 de narcise și 61 de lalele.
Câte flori sunt în total?



7. La florărie s-au adus 86 de crini și s-au vândut 54 dintre aceștia.
Câți crini au mai rămas?

