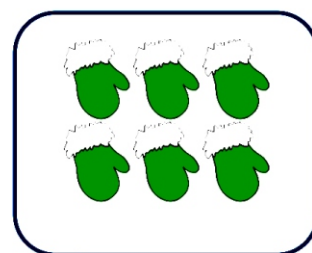






Fișă de lucru


1. Descoperă câte obiecte are mulțimea și scrie numărul corespunzător acestuia:



2. Formează perechi între grupele de elemente. Încercuiește grupa cu cele mai puține elemente.



3. Continuăți șirul de elemente după modelul dat:



4. Desenează atâtea globuri câte îți indică numărul din stelută:

