

# PROVOCĂRI PENTRU EXPERTI

1. În care dreptunghi sunt cele mai multe bile?


I                      II                      III


105 x 8              370 x 2              60 x 2 x 4


IV                      V


113 x 2 x 1              10 x 8 x 0


2. Scrie numărul corespunzător desenului, urmărind simbolurile de mai jos:

 mie

 suta

 zece

 unitate



R: .....

3. Completează partea care lipsește, ținând cont de axa de simetrie:

