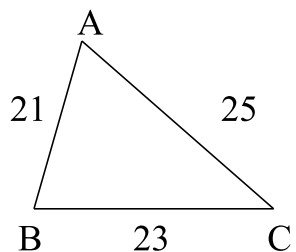


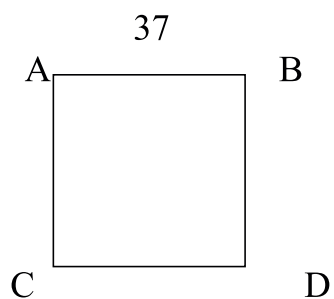
# Fișă de lucru

Calculați perimetrul următoarelor figuri geometrice:




P= \_\_\_\_\_

P= \_\_\_\_\_



P= \_\_\_\_\_

P= \_\_\_\_\_



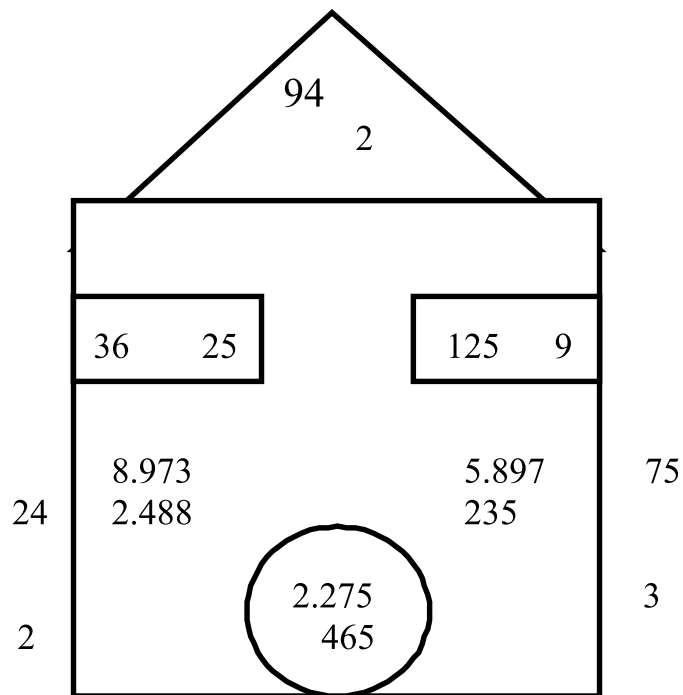
P= \_\_\_\_\_

P= \_\_\_\_\_



# Fișă de lucru

- Observă imaginea!



- Calculează suma numerelor din interiorul cercului.

---

---

- Calculează diferența numerelor din interiorul pătratului.

---

---

- Calculează produsul numerelor din interiorul dreptunghiurilor.

---

---

- Calculează câtul numerelor din interiorul triunghiurilor și exteriorul pătratului.

---

---

