

Fișă de lucru


ACTIVITATE MATEMATICĂ

ANIMALE DOMESTICE


1. Taie cu o linie primul porc și încercuiește-l pe ultimul!




2. Numără animalele și unește fiecare grupă cu cifra corespunzătoare!



3




2



1



4



5