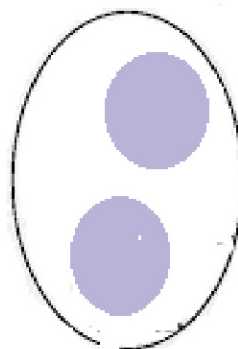





Fișă de lucru

1. Numără elementele fiecărei mulțimi și trasează o linie către cifra corespunzătoare lor.




2

4

3

5

2. Formează prin încercuire mulțimi de obiecte de același fel și încercuiește cifra care corespunde numărului de elemente.



1 2 3 4 5

1 2 3 4 5

1 2 3 4 5