

NUMELE ȘI PRENUMELE:

Calificativ obținut:

Semnătura părintelui:

TEST DE EVALUARE:

Matematică și explorarea mediului

Unitatea tematică: „Sfârșit de toamnă”

(adunarea și scăderea numerelor în centrul 0 - 10; plantele)

1. Recunoaște componentele unei plante și scrie în căsuțe numărul care este scris pe fiecare parte componentă reprezentată prin desen:



FRUNZĂ	FLOARE	SEMIŢE	FRUCT	RĂDĂCINĂ	TULPINĂ
<input type="text"/>	<input type="text"/>	<input type="text"/>	<input type="text"/>	<input type="text"/>	<input type="text"/>

2. a) Calculează suma numerelor scrise pe frunză și pe rădăcină:

<input type="text"/>	<input type="text"/>	<input type="text"/>	<input type="text"/>	<input type="text"/>	<input type="text"/>	<input type="text"/>	<input type="text"/>
----------------------	----------------------	----------------------	----------------------	----------------------	----------------------	----------------------	----------------------

b) Calculează diferența numerelor scrise pe floare și pe fruct:

<input type="text"/>	<input type="text"/>	<input type="text"/>	<input type="text"/>	<input type="text"/>	<input type="text"/>	<input type="text"/>	<input type="text"/>
----------------------	----------------------	----------------------	----------------------	----------------------	----------------------	----------------------	----------------------


c) Calculează numărul cu 7 mai mare decât cel scris pe tulpină:

<input type="text"/>	<input type="text"/>	<input type="text"/>	<input type="text"/>	<input type="text"/>	<input type="text"/>	<input type="text"/>	<input type="text"/>
----------------------	----------------------	----------------------	----------------------	----------------------	----------------------	----------------------	----------------------


d) Calculează numărul cu 4 mai mic decât cel scris pe semințe:

<input type="text"/>	<input type="text"/>	<input type="text"/>	<input type="text"/>	<input type="text"/>	<input type="text"/>	<input type="text"/>	<input type="text"/>
----------------------	----------------------	----------------------	----------------------	----------------------	----------------------	----------------------	----------------------

3. a) Calculează, apoi verifică prin scădere:



b) Calculează, apoi verifică prin adunare:





4. Pe ce floare se așază fluturașul? Realizează corespondența între fiecare exercițiu și semnul potrivit:

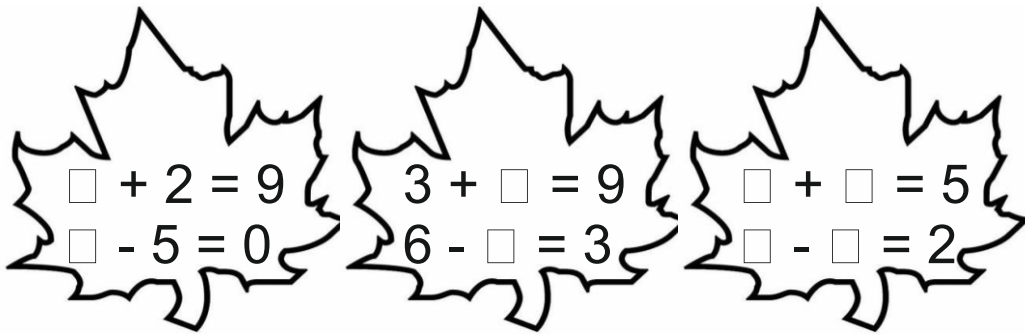
$5 \text{ ☀ } 4 = 1$

$8 \text{ ☀ } 2 = 10$

$7 \text{ ☀ } 4 = 3$

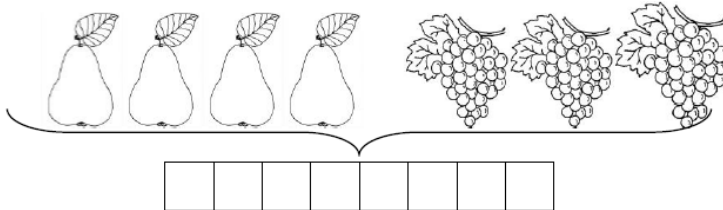


5. Scrie în casete numere potrivite:

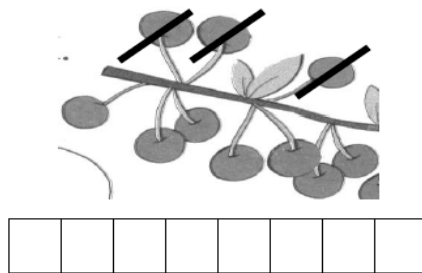


6. Rezolvă următoarele probleme:

a) În coș erau 4 pere și 3struguri. Câte fructe erau în total în coș?



b) Pe o creangă erau 10 cireșe. Maria mănâncă 3. Câte cireșe au rămas pe creangă?



c) Pentru un ghiveci, mama a folosit 2 morcovi, 5 ardei și 3 dovlecei.

Mama a folosit ardei și dovlecei.

Mama a folosit morcovi și dovlecei.

Mama a folosit morcovi, ardei și dovlecei.

NUMELE ȘI PRENUMELE: _____

--	--	--	--	--	--	--	--	--	--

DESCRIPTORI DE PERFORMANȚĂ

	FOARTE BINE	BINE	SUFICIENT
I 1	Recunoaște și scrie corect toate cele 6 numere, corespunzătoare componentelor plantei	Recunoaște și scrie corect 4-5 numere, corespunzătoare componentelor plantei	Recunoaște și scrie corect 2-3 numere, corespunzătoare componentelor plantei
I 2	Calculează corect toate cele 4 sume/diferențe solicitate	Calculează corect 2-3 sume/diferențe solicitate	Calculează corect doar una din sumele/diferențele solicitate
I 3	Calculează corect și verifică prin operația inversă	Calculează corect ambele exerciții, dar greșește la efectuarea probei	Calculează corect doar unul din cele 2 exerciții, cu încercarea de a verifica prin probă
I 4	Realizează corect corespondența cu semnul corespunzător pentru toate cele trei exerciții	Realizează corect corespondența cu semnul corespunzător pentru 2 exerciții	Realizează corect corespondența cu semnul corespunzător doar pentru 1 exercițiu
I 5	Completează corect numărul necunoscut pentru toate cele 6 exerciții	Completează corect numărul necunoscut 4-5 exerciții	Completează corect numărul necunoscut 2-3 exerciții
I 6	Rezolvă corect toate cele 3 probleme	Rezolvă corect 2 probleme	Rezolvă corect o problemă