

TEST DE EVALUARE

MEM- UNITATEA III / TOȚI CEI MICI LA BUNICI

CLASA I

1. Efectuează adunările și scăderile:

$8 + 1 =$

$7 - 4 =$

$6 + 2 - 3 =$

$9 - 7 =$

$6 + 3 =$

$2 + 3 - 1 =$

$4 + 2 =$

$8 + 1 =$

$5 + 1 + 2 =$

2. Află:

* suma numerelor 3 și 5

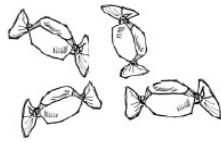
*restul numerelor 6 și 3

*diferența numerelor 8 și 1

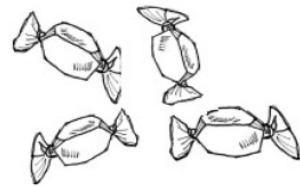
3. Citește și rezolvă:

Rina arecaramele.

Luca are.....caramele.



+




Câte caramele au în total cei doi copii ?

Rezolvare

--	--	--	--	--	--	--	--	--	--

R: caramele

4. Ana are 5 creioane roșii și 3 creioane verzi. Câte creioane are în total Ana ?



--	--	--	--	--	--	--	--	--	--

5. Din cele 9 lalele din grădină, Ionela a rupt 6. Câte lalele mai rămân în grădină?




--	--	--	--	--	--	--	--	--

R: caramele

6. Desenează / taie atâtea elemente pentru a echilibra numărul lor:



$$1 + \square = 3$$



$$4 - \square = 2$$

7. Scrie X în caseta corespunzătoare obiectelor care funcționează cu curent electric:

