
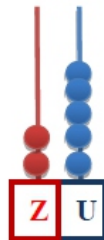
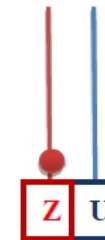





Fișă de lucru

Numerele naturale de la 0 la 31. Plante

Clasa I

1. Scrie numerele formate pe numărătoare sau reprezintă-le tu:

					
Z U	Z U	Z U	Z U	Z U	Z U
1 1	<input type="text"/>	<input type="text"/>	<input type="text"/>	<input type="text"/>	2 3

2. Descoperă regula, apoi continuă cu încă 5 numere:

- 29, 28, 27, __, __, __, __, __;
- 14, 16, 18, __, __, __, __, __;
- 0, 5, 10, __, __, __, __, __;

3. Compară: < , > , =

13 21

27 19

13 13

10 20

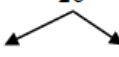
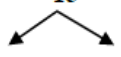
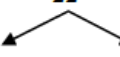
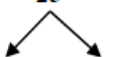
4. Ordonează crescător numerele de mai jos:

22	14	7	30
<input type="text"/>	<input type="text"/>	<input type="text"/>	<input type="text"/>

5. Ordonează descrescător numerele de mai jos:

16	5	23	31
<input type="text"/>	<input type="text"/>	<input type="text"/>	<input type="text"/>

6. Descompune numerele în zeci și unități:

26	15	22	25
			
<input type="text"/>	<input type="text"/>	<input type="text"/>	<input type="text"/>

7. Scrie vecinii numerelor:

... 12 10 29 13 5 27 ...

8. Încercuiește cu verde numerele pare și cu mov pe cele impare:

2, 1, 12, 13, 6, 28, 31, 14 , 29

9. Adevărat (A) sau fals (F) ?

a) Plantele au nevoie de lumină, apă și căldură.

b) Tulpina transportă substanțele hrănitoare către rădăcină.

c) Rădăcina fixează planta în pământ.

d) Semințele au rol în înmulțirea plantelor.

E timpul să te relaxezi! Desenează o pădăie.