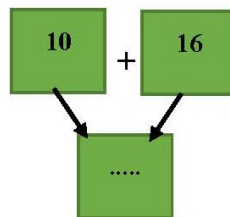
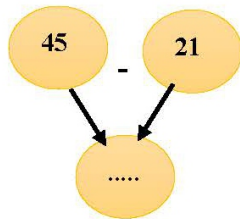
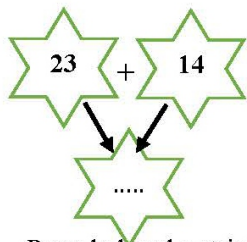


# FIȘĂ DE LUCRU ADUNAREA ȘI SCĂDEREA ZU+ZU/ ZU-ZU, FĂRĂ TRECERE PESTE ORDIN CLASA I

Prof. învăț. primar KOCSIS MARIA-MAGDALENA

1. Calculează și completează:



2. Pune la locul potrivit semnele +, -, =, astfel încât operațiile să fie corecte:

21 ● 11 ● 10

30 ● 20 ● 50

24 ● 12 ● 36

15 ● 12 ● 27

3. Colorează rezultatul corect, conform modelului:

30 + 23 = 13 53 43

64 - 32 = 42 96 32

24 + 40 = 20 44 64

58 - 43 = 15 33 12

4. Adevărat sau Fals?

22 + 11 = 33 .....

53 = 12 + 13 .....

10 + 11 + 10 = 31 .....

40 - 10 = 30 .....

21 = 10 + 11 .....

30 + 10 - 10 = 30 .....

65 - 24 = 42 .....

89 = 79 - 50 .....

20 + 15 - 10 = 20 .....

5. În grădina bunicii au înflorit 13 narcise, 11 zambile și 24 lalele. Câte flori sunt înflorite în grădina bunicii? Cu câte lalele sunt mai multe decât narcise?

Rezolvare

.....

.....

.....

.....

R: ....., .....