







## Fișă de lucru

1. Găsește stropitoarea cu care a fost udată fiecare floare.



2. Completează cu numerele potrivite care la un loc dau 44 și 90.



3. Mara a cules 32 de brândușe, Oana cu 12 mai puține decât Mara.

Câte brândușe a cules Oana?

.....