


# Fișă de lucru

## Grupa Mare

### Cifra 7

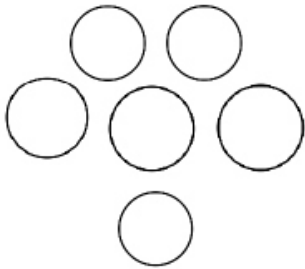
1. Desenează 7 buline pe aripile fluturașului.



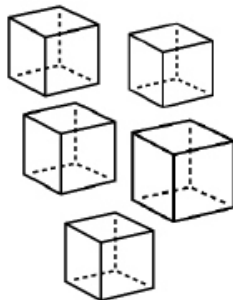
2. Serie vecinii care lipsesc.

1 \_ 3 \_ \_ 6 \_

3. Încercuiește mulțimea cu 7 elemente.



Mingi



Cuburi



Ursuleți

4. Desenează în coșuleț 6 mere roșii și unul verde. Câte mere sunt în total?

