


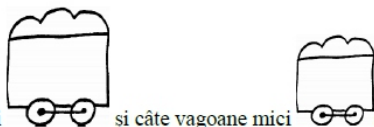
# FIȘĂ DE LUCRU - DȘ

## Grupa mare




Completează cifrele care lipsesc.



Scrie câte vagoane mari și câte vagoane mici sunt.



Scrie care sunt vecinii numerelor



Colorează primul vagon cu galben, al treilea cu portocaliu, al șaselea cu roșu, al optulea cu albastru și ultimul cu verde.

