





NUME: _____

Fișă de lucru -DȘ(activitate matematică)

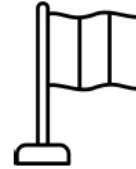
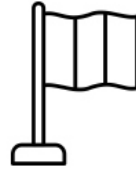
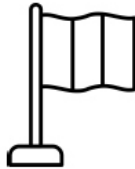
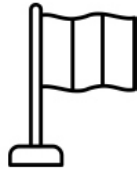

1. Formează mulțimi cu obiecte de același fel. Notează în pătrat numărul de elemente din fiecare mulțime.



2. Formează mulțimi cu obiecte de același fel. Desenează steagul României sub mulțimea cu cele mai puține elemente.



3. Colorează primul și al cincilea drapel. Încercuiește pe cel de-al patrulea și taie cu o linie cel de-al treilea drapel.



4. Unește fiecare mulțime cu cifra corespunzătoare. Colorează ultima mulțime.



1



2



5



4



3

Autoevaluare:

